




Всероссийская олимпиада школьников по географии
школьный этап 2020-2021 учебный год
7 класс

Бланк ответов учащегося для заданий тестового тура

№ вопроса	Правильный ответ (элементы ответа)	
1.	а б	—
2.	а	1
3.	б	1
4.	а	1
5.	в	—
6.	б	1
7.	а	1
8.	1-б 2-г 3-в 4-а	1
9.	а	1
10.	б	—
11.	ЦЧЗр.	—
12.	г.	1
13.	в	—
14.	1-б 2-в 3-а	1
15.	в	—
Итого		(9)

Теоретический тур
Задание 1. "Я в Хабаровском крае живу"

№	Вопрос	Ответ
1.	Определите, на каком рисунке изображен контур Хабаровского края?	
2.	Используя политическую карту мира в атласе, определите, контуры каких территорий кроме Хабаровского края здесь изображены?	
3.	<p>Дополните рисунок с контуром Хабаровского края:</p> <p>a) подпишите стороны горизонта</p> <p>b) море, которым омывается территория Хабаровского края</p> <p>c) одну из крупнейших рек Евразии, протекающую по территории Хабаровского края</p> <p>d) обозначьте место своего проживания (на карте)</p>	
4.	Назовите три основные достопримечательности (интересные места) своего населенного пункта, которые вы предложили бы для ознакомления туристам из других регионов России.	<p>А стела, известна во всем мире - 1911-1913.</p> <p>А горы Сиваяе-Аишт.</p> <p align="right">0,5</p> <hr/> <p align="right">0,5</p>

